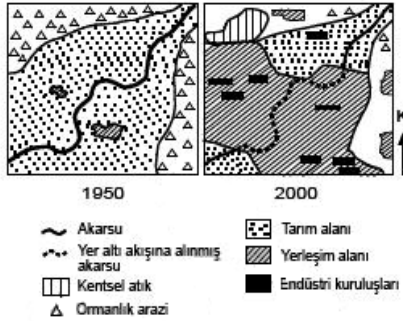


7-)Aşağıda aynı bölgenin 1950 ve 2000 yıllarına ait arazi kullanım haritaları gösterilmiştir.



Buna göre, elli yıllık surede, arazi kullanımıyla ilgili aşağıda verilen değişimlerden hangisinin çevre sorununa yol açmış olması beklenmez?

- A-)Ormanlık alanların daralması
- B-)Yerleşim alanları ile endüstri kuruluşlarının bir arada bulunması
- C-)Tarım alanlarının yerleşime açılması
- D-)Kentsel atıkların yerleşim alanı yakınlarında de-polanması
- E-)Kent yakınında tarımsal etkinliklerin yapılması

(2009 ED.SOS.)

8-)Deniz seviyesinden yükseklikleri aynı olan noktaları birleştirdiği düşünülen eğrilerle eşyüksekti eğrisi adı verilir. Bu eğrilerle çizilen haritalara topografya haritası denir.

Aynı ülkelerin farklı ölçeklerle çizilen iki topoğrafya haritası

- I-Eş yükselti eğrilerinin sayısı
- II-Eş yükselti eğrileri arasındaki yükselti farkı
- III-Belli bir yüksekliği gösteren eş yükselti eğrisi üzerindeki yerler

Bakımından karşılaştırılacaktır. Bu iki haritada yukarıdakilerden hangilerinin kesinlikle aynı olması beklenir?

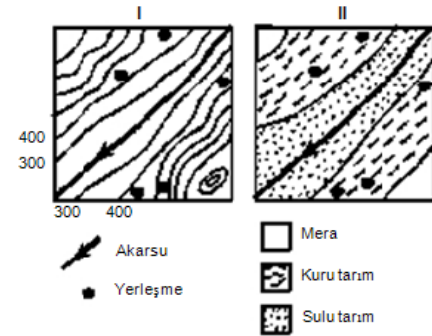
- A-)Yalnız I B-)Yalnız II C-)Yalnız III
- D-)I ve II E-)II ve III (2004 ÖSS)

9-)Aşağıdaki illerin yüzey şekilleri göz önüne alındığında, hangisinin gerçek alanıyla iz düşümsel alanı arasındaki farkın diğerlerinden daha az olduğu söylenebilir?

- A-)Kastamonu
- B-) Hakkâri
- C-) Rize
- D-) Şanlıurfa
- E-) Ağrı

(2008 ED.SOS.)

10-)Aşağıdaki I numaralı harita bir yerin eşyüksekti eğrileriyle çizilmiş "topografya haritası"; II numaralı harita ise aynı yerin, aynı ölçekte çizilmiş "arazi kullanım haritasıdır."

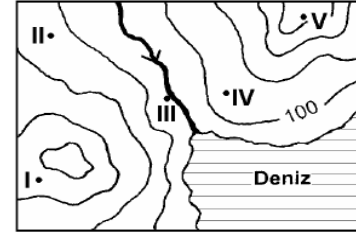


Haritalardaki bilgilere dayanarak bu yerle ilgili aşağıdaki yargılardan hangisine ulaşılamaz?

- A-)Akarsuya yakın kesimlerde sulu tarım yapılmaktadır.
- B-)800 m üzerindeki kesimler hayvancılığa elverişlidir.
- C-)Yerleşmeler daha çok 400-600 m arasındadır
- D-)400-800 metreler arasında kuru tarım yapılmaktadır.
- E-)Kuru tarım alanları makineli tarım yapmaya elverişlidir.

(2005 ÖSS)


11-)Topografya haritalarında, aynı yükseklikte olan noktaların birleştirilmesiyle elde edilen eğrilerle eşyüksekti eğrisi denir. Birbirini izleyen iki eşyüksekti eğrisi arasındaki yükselti farkı her yerde aynıdır.



Buna göre, yukarıdaki haritada eşyüksekti eğrileri arasında verilen numaralanmış noktalardan hangilerinin yükseltileri birbirine en yakındır?

- A-)I ve II B-)I ve III C-)II ve IV
- D-)II ve V E-)III ve V (2003 ÖSS)

12-)Basınç farklılıklarından doğan hava hareketlerine rüzgâr denir. Rüzgârlar her zaman, yüksek basınç alanlarından alçak basınç alanlarına doğru eser.



Buna göre, yukarıdaki basınç haritasında numaralanmış yerlerden hangileri alçak basınç alanlarını göstermektedir?

- A-)I ve II B-)I ve IV C-)II ve III
- D-)III ve V E-)IV ve V (2003 ÖSS)

13-) Bir haritada yer alan;  
I. bir yolun eğimi,  
II. bir ilin izdüşümsel alanı,  
III. bir akarsuyun uzunluğu  
niceliklerinden hangileri haritanın ölçeğinden yararlanılarak hesaplanabilir?

- A-)Yalnız I B-)Yalnız II C-)Yalnız III
- D-)I ve II E-)II ve III (2002 ÖSS)

14-)Türkiye'deki doğal bitki örtüsü dağılışını gösteren bir haritadan,aşağıdakilerden hangisi ile ilgili bilgi edinebilir?

- A-)Nüfus Yoğunluğu
- B-)Hayvancılıkta Uygulanan Yöntemle
- C-)Akarsu Havzalarının Genişliği ile
- D-)İklim Tipleriyle
- E-)Ulaşım Olanaklarıyla (2001 ÖSS)

15-)Bir fiziki haritada Çukurova ile Konya Ovası'nın farklı renklerle belirtilmiş olması,bu ovaların aşağıdakilerden hangisi bakımından farklı olduğunu gösterir?

- A-)Yıllık Yağış Tutarı
- B-)Yükselti
- C-)Yüzölçümü
- D-)Jeolojik Yapı
- E-)Toprak Tipi (2000 ÖSS)

16-)Bir yerin izdüşüm yüzölçümü arazideki yükseklikler ve çukurlar dikkate alınmadan,her yer düz kabul edilerek yapılan hesaplamalar sonucunda elde edilir.Gerçek yüzölçümü ise bu yükseklik ve çukurlar dikkate alınarak hesaplanır. Buna göre aşağıdaki ülkelerden hangisinin gerçek yüzölçümü ile izdüşüm yüzölçümü arasındaki fark en küçüktür?

- A-)Mısır
- B-)Yunanistan
- C-)İran
- D-)Fransa
- E-)Almanya (1998 ÖSS)